









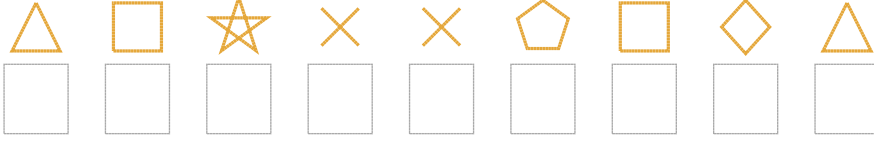


Şekil Sayı Eşleştirme

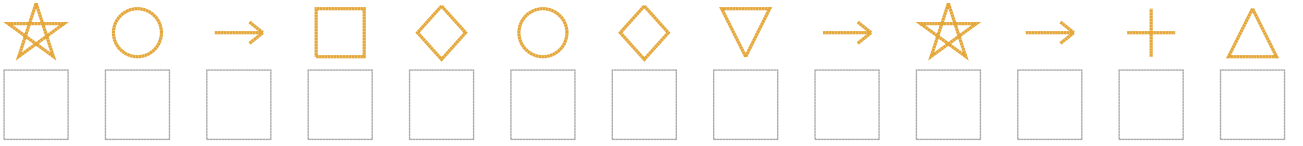
									
= 4	= 7	= 3	= 2	= 5	= 1	= 0	= 9	= 8	= 6

Aşağıdaki uzun şifreleri hatasız çözerek altlarına yazın:

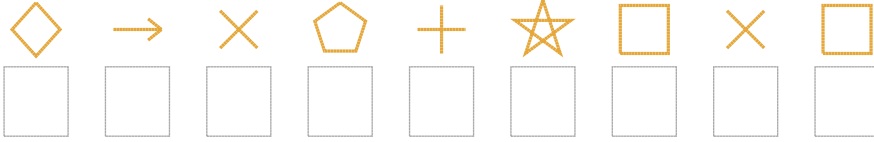
1. Şifre



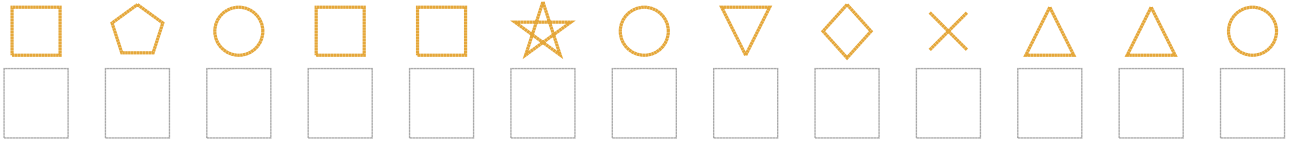
2. Şifre



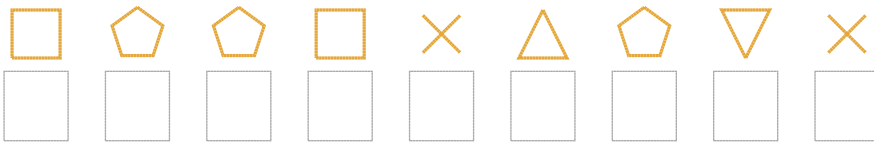
3. Şifre



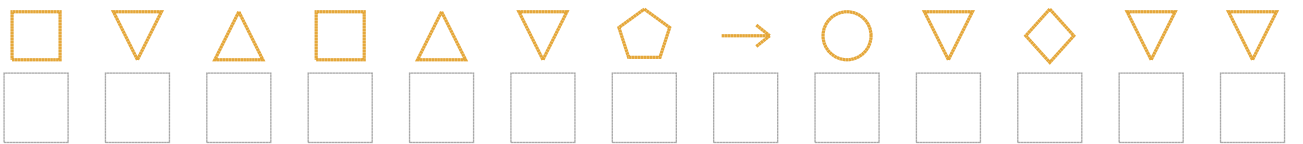
4. Şifre



5. Şifre



6. Şifre



7. Şifre



❑ BONUS: 7. ve 2. şifrenin üçüncü rakamının toplamı kaçtır?

Cevap Anahtarı

1. Şifre: 534110395
2. Şifre: 4683969284875
3. Şifre: 981074313
4. Şifre: 3063346291556
5. Şifre: 300315021
6. Şifre: 3253520862922
7. Şifre: 4027495103

□ Bonus Soru Cevabı: 10